

**ПРОЕКТ**

Единый государственный экзамен по МАТЕМАТИКЕ

**Демонстрационный вариант**  
контрольных измерительных материалов  
единого государственного экзамена 2016 года  
по математике

**Базовый уровень**

Подготовлен Федеральным государственным бюджетным  
научным учреждением

«ФЕДЕРАЛЬНЫЙ ИНСТИТУТ ПЕДАГОГИЧЕСКИХ ИЗМЕРЕНИЙ»

**Пояснения к демонстрационному варианту  
контрольных измерительных материалов ЕГЭ 2016 года  
по МАТЕМАТИКЕ**

Демонстрационный вариант предназначен для того, чтобы дать представление о структуре будущих контрольных измерительных материалов, количестве заданий, об их форме и уровне сложности.

**В демонстрационном варианте представлено по несколько примеров заданий на каждую позицию экзаменационной работы. В реальных вариантах экзаменационной работы на каждую позицию будет предложено только одно задание.**

Задания демонстрационного варианта не отражают всех вопросов содержания, которые могут быть включены в контрольные измерительные материалы в 2016 г.

**Демонстрационный вариант  
контрольных измерительных материалов  
для проведения в 2016 году единого государственного экзамена  
по МАТЕМАТИКЕ**

**Базовый уровень**

**Инструкция по выполнению работы**

Экзаменационная работа включает в себя 20 заданий.

На выполнение работы отводится 3 часа (180 минут).

Ответы к заданиям записываются по приведённым ниже образцам в виде числа или последовательности цифр. Сначала запишите ответы к заданиям сначала в поле ответа в тексте работы, а затем перенесите их в бланк ответов № 1 справа от номера соответствующего задания.

КИМ

Ответ: -0,6.

**-0,6**

Бланк

Если ответом является последовательность цифр, как в приведённом ниже примере, то запишите эту последовательность в бланк ответов № 1 без пробелов, запятых и других дополнительных символов.

КИМ

Ответ:

А	Б	В	Г
4	3	1	2

**4312**

Бланк

Все бланки ЕГЭ заполняются яркими чёрными чернилами. Допускается использование гелевой, или капиллярной, или перьевой ручек.

При выполнении заданий можно пользоваться черновиком. Записи в черновике не учитываются при оценивании работы.

Баллы, полученные Вами за выполненные задания, суммируются. Постарайтесь выполнить как можно больше заданий и набрать наибольшее количество баллов.

*Желаем успеха!*

**Справочные материалы**

**Алгебра**

Таблица квадратов целых чисел от 0 до 99

Десятки	Единицы									
	0	1	2	3	4	5	6	7	8	9
0	0	1	4	9	16	25	36	49	64	81
1	100	121	144	169	196	225	256	289	324	361
2	400	441	484	529	576	625	676	729	784	841
3	900	961	1024	1089	1156	1225	1296	1369	1444	1521
4	1600	1681	1764	1849	1936	2025	2116	2209	2304	2401
5	2500	2601	2704	2809	2916	3025	3136	3249	3364	3481
6	3600	3721	3844	3969	4096	4225	4356	4489	4624	4761
7	4900	5041	5184	5329	5476	5625	5776	5929	6084	6241
8	6400	6561	6724	6889	7056	7225	7396	7569	7744	7921
9	8100	8281	8464	8649	8836	9025	9216	9409	9604	9801

Свойства арифметического квадратного корня

$$\sqrt{ab} = \sqrt{a} \cdot \sqrt{b} \text{ при } a \geq 0, b \geq 0 \quad \sqrt{\frac{a}{b}} = \frac{\sqrt{a}}{\sqrt{b}} \text{ при } a \geq 0, b > 0$$

Корни квадратного уравнения  $ax^2 + bx + c = 0, a \neq 0$

$$x_1 = \frac{-b - \sqrt{b^2 - 4ac}}{2a}, \quad x_2 = \frac{-b + \sqrt{b^2 - 4ac}}{2a} \text{ при } b^2 - 4ac > 0$$

$$x = -\frac{b}{2a} \text{ при } b^2 - 4ac = 0$$

Формулы сокращенного умножения

$$(a + b)^2 = a^2 + 2ab + b^2$$

$$(a - b)^2 = a^2 - 2ab + b^2$$

$$a^2 - b^2 = (a + b)(a - b)$$

**Степень и логарифм**

Свойства степени при  $a > 0, b > 0$

$$a^{-n} = \frac{1}{a^n}$$

$$a^n \cdot a^m = a^{n+m}$$

$$\frac{a^n}{a^m} = a^{n-m}$$

$$(a^n)^m = a^{nm}$$

$$(ab)^n = a^n \cdot b^n$$

$$\left(\frac{a}{b}\right)^n = \frac{a^n}{b^n}$$

Свойства логарифма при  $a > 0, a \neq 1, b > 0, x > 0, y > 0$

$$a^{\log_a b} = b$$

$$\log_a a = 1$$

$$\log_a 1 = 0$$

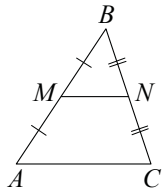
$$\log_a(xy) = \log_a x + \log_a y$$

$$\log_a\left(\frac{x}{y}\right) = \log_a x - \log_a y$$

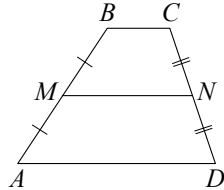
$$\log_a b^k = k \log_a b$$

**Геометрия**

Средняя линия треугольника и трапеции

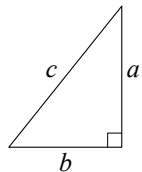


$MN$  — ср. лин.  
 $MN \parallel AC$   
 $MN = \frac{AC}{2}$



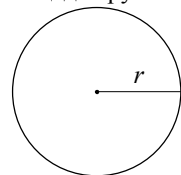
$BC \parallel AD$   
 $MN$  — ср. лин.  
 $MN \parallel AD$   
 $MN = \frac{BC + AD}{2}$

Теорема Пифагора



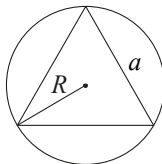
$$a^2 + b^2 = c^2$$

Длина окружности  
 Площадь круга

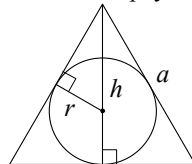


$C = 2\pi r$   
 $S = \pi r^2$

Описанная и вписанная окружности правильного треугольника



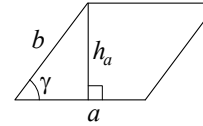
$$R = \frac{a\sqrt{3}}{3}$$



$r = \frac{a\sqrt{3}}{6}$   
 $h = \frac{a\sqrt{3}}{2}$

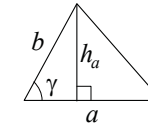
**Площади фигур**

Параллелограмм



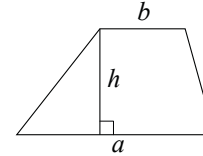
$S = ah_a$   
 $S = absin \gamma$

Треугольник



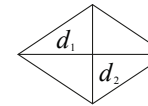
$S = \frac{1}{2}ah_a$   
 $S = \frac{1}{2}absin \gamma$

Трапеция



$$S = \frac{a+b}{2} \cdot h$$

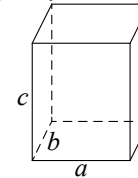
Ромб



$d_1, d_2$  — диагонали  
 $S = \frac{1}{2}d_1d_2$

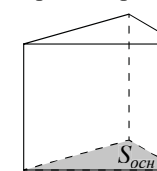
**Площади поверхностей и объёмы тел**

Прямоугольный параллелепипед



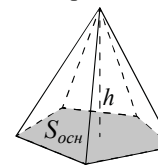
$$V = abc$$

Прямая призма



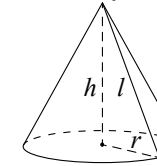
$$V = S_{осн}h$$

Пирамида



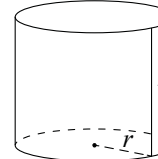
$$V = \frac{1}{3}S_{осн}h$$

Конус



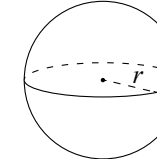
$V = \frac{1}{3}\pi r^2 h$   
 $S_{бок} = \pi r l$

Цилиндр



$V = \pi r^2 h$   
 $S_{бок} = 2\pi r h$

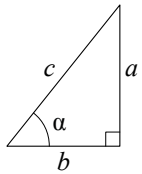
Шар



$V = \frac{4}{3}\pi r^3$   
 $S = 4\pi r^2$

**Тригонометрические функции**

Прямоугольный треугольник

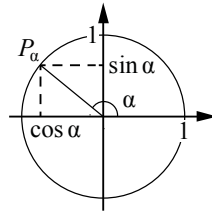


$$\sin \alpha = \frac{a}{c}$$

$$\cos \alpha = \frac{b}{c}$$

$$\operatorname{tg} \alpha = \frac{a}{b}$$

Тригонометрическая окружность



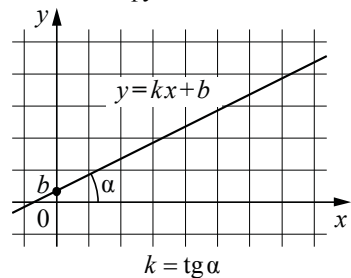
Основное тригонометрическое тождество:  $\sin^2 \alpha + \cos^2 \alpha = 1$

Некоторые значения тригонометрических функций

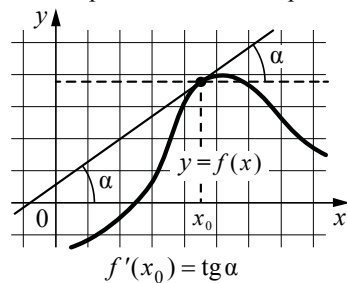
$\alpha$	радианы	0	$\frac{\pi}{6}$	$\frac{\pi}{4}$	$\frac{\pi}{3}$	$\frac{\pi}{2}$	$\pi$	$\frac{3\pi}{2}$	$2\pi$
	градусы	0°	30°	45°	60°	90°	180°	270°	360°
$\sin \alpha$		0	$\frac{1}{2}$	$\frac{\sqrt{2}}{2}$	$\frac{\sqrt{3}}{2}$	1	0	-1	0
$\cos \alpha$		1	$\frac{\sqrt{3}}{2}$	$\frac{\sqrt{2}}{2}$	$\frac{1}{2}$	0	-1	0	1
$\operatorname{tg} \alpha$		0	$\frac{\sqrt{3}}{3}$	1	$\sqrt{3}$	—	0	—	0

**Функции**

Линейная функция



Геометрический смысл производной



*Ответом к каждому заданию является конечная десятичная дробь, целое число или последовательность цифр. Сначала запишите ответ к заданию в поле ответа в тексте работы, а затем перенесите в БЛАНК ОТВЕТОВ № 1 справа от номера соответствующего задания. Каждую цифру, знак «минус» и запятую пишите в отдельной клеточке в соответствии с приведёнными в бланке образцами. Единицы измерений писать не нужно.*

**1** Вычислите:  $\frac{2}{5} + \frac{1}{4} + 2$ .

Ответ: \_\_\_\_\_.

**ИЛИ**

Вычислите:  $(\frac{1}{3} + \frac{1}{5}) \cdot 6$ .

Ответ: \_\_\_\_\_.

**2** Найдите значение выражения  $\frac{0,24 \cdot 10^6}{0,6 \cdot 10^4}$ .

Ответ: \_\_\_\_\_.

**ИЛИ**

Найдите значение выражения  $\frac{2^6 \cdot 3^8}{6^5}$ .

Ответ: \_\_\_\_\_.

**3** Ивану Кузьмичу начислена заработная плата 20 000 рублей. Из этой суммы вычитается налог на доходы физических лиц в размере 13%. Сколько рублей он получит после уплаты подоходного налога?

Ответ: \_\_\_\_\_.

**ИЛИ**

ЕГЭ по физике сдавали 25 выпускников школы, что составляет треть от общего числа выпускников. Сколько выпускников этой школы не сдавали экзамена по физике?

Ответ: \_\_\_\_\_.

4 Найдите  $m$  из равенства  $F = ma$ , если  $F = 84$  и  $a = 12$ .

Ответ: \_\_\_\_\_.

**ИЛИ**

Найдите  $v_0$  из равенства  $v = v_0 + at$ , если  $v = 20$ ,  $t = 2$  и  $a = 7$ .

Ответ: \_\_\_\_\_.

**ИЛИ**

Найдите  $S$  из равенства  $S = v_0 \cdot t + \frac{at^2}{2}$ , если  $v_0 = 6$ ,  $t = 2$ ,  $a = -2$ .

Ответ: \_\_\_\_\_.

5 Найдите  $\cos \alpha$ , если  $\sin \alpha = 0,8$  и  $90^\circ < \alpha < 180^\circ$ .

Ответ: \_\_\_\_\_.

**ИЛИ**

Найдите значение выражения  $(2\sqrt{13} - 1)(2\sqrt{13} + 1)$ .

Ответ: \_\_\_\_\_.

**ИЛИ**

Найдите значение выражения  $5^{\log_5 6 + 1}$ .

Ответ: \_\_\_\_\_.

6 Баночка йогурта стоит 14 рублей 60 копеек. Какое наибольшее количество баночек йогурта можно купить на 100 рублей?

Ответ: \_\_\_\_\_.

**ИЛИ**

Килограмм моркови стоит 40 рублей. Олег купил 2 килограмма моркови. Сколько рублей сдачи он должен получить со 100 рублей?

Ответ: \_\_\_\_\_.

**ИЛИ**

Для ремонта требуется 63 рулона обоев. 1 пачка клея рассчитана на 6 рулонов. Какое минимальное количество пачек обойного клея нужно купить для такого ремонта?

Ответ: \_\_\_\_\_.

7 Найдите корень уравнения  $3^{x-3} = 81$ .

Ответ: \_\_\_\_\_.

**ИЛИ**

Найдите корень уравнения  $\log_2(x-3) = 6$ .

Ответ: \_\_\_\_\_.

**ИЛИ**

Найдите отрицательный корень уравнения  $x^2 - x - 6 = 0$ .

Ответ: \_\_\_\_\_.

8 Участок земли для строительства санатория имеет форму прямоугольника, стороны которого равны 900 м и 400 м. Одна из больших сторон участка идёт вдоль моря, а три остальные стороны нужно отгородить забором. Найдите длину этого забора. Ответ дайте в метрах.

Ответ: \_\_\_\_\_.

**ИЛИ**

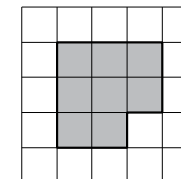
Какой угол (в градусах) образуют минутная и часовая стрелки в 16:00?

Ответ: \_\_\_\_\_.

**ИЛИ**

План местности разбит на клетки. Каждая клетка обозначает квадрат  $1 \text{ м} \times 1 \text{ м}$ . Найдите площадь участка, изображённого на плане. Ответ дайте в квадратных метрах.

Ответ: \_\_\_\_\_.



9

Установите соответствие между величинами и их возможными значениями: к каждому элементу первого столбца подберите соответствующий элемент из второго столбца.

ВЕЛИЧИНЫ	ВОЗМОЖНЫЕ ЗНАЧЕНИЯ
А) рост ребёнка	1) 32 км
Б) толщина листа бумаги	2) 30 м
В) протяжённость автобусного маршрута	3) 0,2 мм
Г) высота жилого дома	4) 110 см

В таблице под каждой буквой, соответствующей величине, укажите номер её возможного значения.

Ответ:

А	Б	В	Г

**ИЛИ**

Установите соответствие между величинами и их возможными значениями: к каждому элементу первого столбца подберите соответствующий элемент из второго столбца.

ВЕЛИЧИНЫ	ВОЗМОЖНЫЕ ЗНАЧЕНИЯ
А) масса взрослого человека	1) 8 т
Б) масса грузового автомобиля	2) 5 г
В) масса книги	3) 65 кг
Г) масса пуговицы	4) 300 г

В таблице под каждой буквой, соответствующей величине, укажите номер её возможного значения.

Ответ:

А	Б	В	Г

10

В чемпионате по прыжкам в воду участвуют 35 спортсменов: 7 из России, 12 из Китая, 9 из Японии и 7 из США. Порядок, в котором выступают спортсмены, определяется жребием. Найдите вероятность того, что спортсмен, выступающий первым, окажется из России.

Ответ: \_\_\_\_\_.

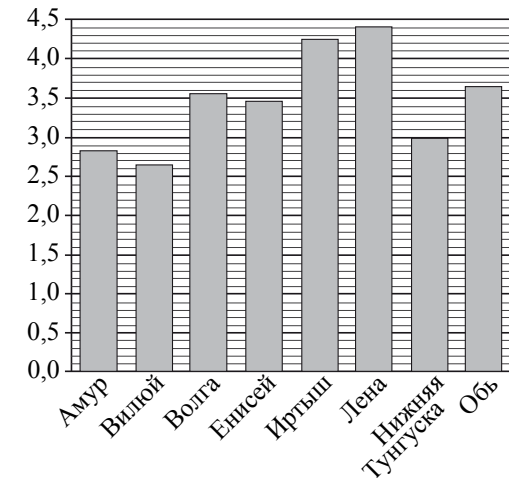
**ИЛИ**

Из каждых 100 лампочек, поступающих в продажу, в среднем 3 неисправны. Какова вероятность того, что случайно выбранная в магазине лампочка окажется исправной?

Ответ: \_\_\_\_\_.

11

На диаграмме приведены данные о длине восьми крупнейших рек России (в тысячах километров). Первое место по длине занимает река Лена.



На каком месте по длине находится река Амур?

Ответ: \_\_\_\_\_.

**ИЛИ**

В таблице показано распределение медалей на XXII Зимних Олимпийских играх в Сочи среди команд, занявших первые 10 мест по количеству золотых медалей.

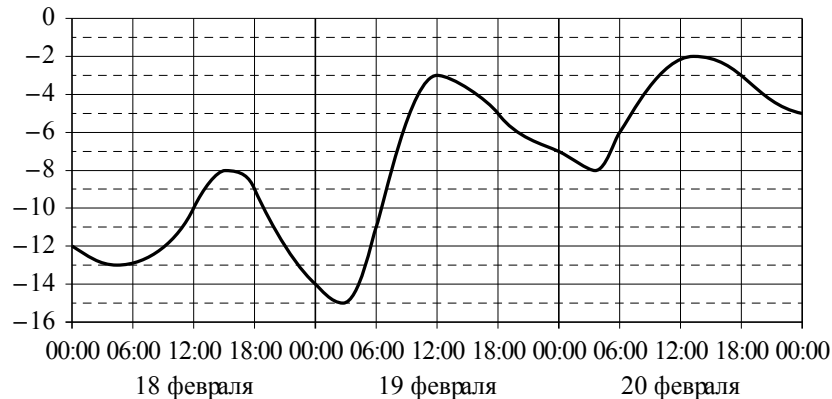
Места	Команды	Медали			Всего
		Золотые	Серебряные	Бронзовые	
1	Россия	13	11	9	33
2	Норвегия	11	5	10	26
3	Канада	10	10	5	25
4	США	9	7	12	28
5	Нидерланды	8	7	9	24
6	Германия	8	6	5	19
7	Швейцария	6	3	2	11
8	Белоруссия	5	0	1	6
9	Австрия	4	8	5	17
10	Франция	4	4	7	15

Определите с помощью таблицы, сколько серебряных медалей у команды, занявшей второе место по количеству золотых медалей?

Ответ: \_\_\_\_\_.

**ИЛИ**

На графике показано изменение температуры воздуха на протяжении трёх суток. На горизонтальной оси отмечается число, месяц, время суток в часах; на вертикальной оси — значение температуры в градусах Цельсия.



Определите по графику наибольшую температуру воздуха 19 февраля. Ответ дайте в градусах Цельсия.

Ответ: \_\_\_\_\_.

**12**

Для обслуживания международного семинара необходимо собрать группу переводчиков. Сведения о кандидатах представлены в таблице.

Номер переводчика	Язык	Стоимость услуг (руб. в день)
1	Немецкий, испанский	7000
2	Английский, немецкий	6000
3	Английский	3000
4	Английский, французский	6000
5	Французский	2000
6	Испанский	4000

Пользуясь таблицей, соберите хотя бы одну группу, в которой переводчики вместе владеют четырьмя иностранными языками: английским, немецким, французским и испанским, а суммарная стоимость их услуг не превышает 12 000 рублей в день.

В ответе укажите ровно один набор номеров переводчиков без пробелов, запятых и других дополнительных символов.

Ответ: \_\_\_\_\_.

**ИЛИ**

Турист подбирает себе экскурсии. Сведения об экскурсиях представлены в таблице.

Номер экскурсии	Посещаемый объект	Стоимость (руб.)
1	Крепость, загородный дворец	350
2	Музей живописи	100
3	Парк	150
4	Парк, музей живописи	300
5	Парк, крепость	300
6	Загородный дворец	200

Пользуясь таблицей, подберите экскурсии так, чтобы турист посетил четыре объекта: крепость, загородный дворец, парк и музей живописи, а суммарная стоимость экскурсий не превышала 600 рублей.

В ответе укажите ровно один набор номеров экскурсий без пробелов, запятых и других дополнительных символов.

Ответ: \_\_\_\_\_.

**ИЛИ**

Строительная фирма планирует купить  $70 \text{ м}^3$  пеноблоков у одного из трёх поставщиков. Цены и условия доставки приведены в таблице.

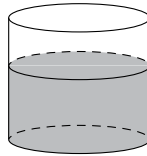
Поставщик	Стоимость пеноблоков (руб. за $1 \text{ м}^3$ )	Стоимость доставки (руб.)	Дополнительные условия
А	2600	10 000	Нет
Б	2800	8000	При заказе товара на сумму свыше 150 000 рублей доставка бесплатная
В	2700	8000	При заказе товара на сумму свыше 200 000 рублей доставка бесплатная

Сколько рублей нужно заплатить за самую дешёвую покупку с доставкой?

Ответ: \_\_\_\_\_.

13

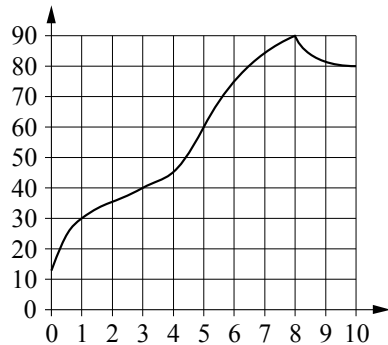
В сосуд цилиндрической формы была налита вода до уровня 80 см. Её перелили во второй цилиндрический сосуд, у которого радиус основания в 4 раза больше, чем у первого. На каком уровне будет вода во втором сосуде?  
 Ответ дайте в сантиметрах.



Ответ: \_\_\_\_\_.

14

На графике показано изменение температуры в процессе разогрева двигателя легкового автомобиля. На горизонтальной оси отмечено время в минутах, прошедшее с момента запуска двигателя; на вертикальной оси — температура двигателя в градусах Цельсия.



Пользуясь графиком, поставьте в соответствие каждому интервалу времени характеристику процесса разогрева двигателя на этом интервале.

ИНТЕРВАЛЫ ВРЕМЕНИ

ХАРАКТЕРИСТИКИ ПРОЦЕССА

- |              |                                       |
|--------------|---------------------------------------|
| А) 0–2 мин.  | 1) Температура росла медленнее всего. |
| Б) 2–4 мин.  | 2) Температура падала.                |
| В) 4–6 мин.  | 3) Температура росла быстрее всего.   |
| Г) 8–10 мин. | 4) Температура не превышала 40 °С.    |

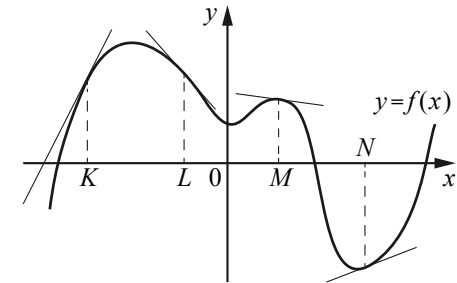
В таблице под каждой буквой, соответствующей интервалу времени, укажите номер характеристики процесса.

Ответ:

А	Б	В	Г

**ИЛИ**

На рисунке изображён график функции  $y = f(x)$ , к которому проведены касательные в четырёх точках.



Ниже указаны значения производной в данных точках. Пользуясь графиком, поставьте в соответствие каждой точке значение производной в ней.

ТОЧКИ                      ЗНАЧЕНИЯ ПРОИЗВОДНОЙ

- |     |                     |
|-----|---------------------|
| $K$ | 1) $-\frac{2}{15}$  |
| $L$ | 2) 2                |
| $M$ | 3) $\frac{5}{13}$   |
| $N$ | 4) $-1\frac{2}{15}$ |

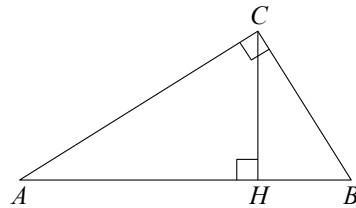
В таблице под каждой буквой укажите соответствующий номер.

Ответ:

$K$	$L$	$M$	$N$

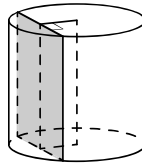


- 15** В треугольнике  $ABC$  угол  $ACB$  равен  $90^\circ$ ,  $\cos A = 0,8$ ,  $AC = 4$ . Отрезок  $CH$  — высота треугольника  $ABC$  (см. рисунок). Найдите длину отрезка  $AH$ .



Ответ: \_\_\_\_\_.

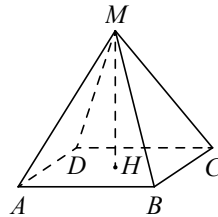
- 16** Радиус основания цилиндра равен 13, а его образующая равна 18. Сечение, параллельное оси цилиндра, удалено от неё на расстояние, равное 12. Найдите площадь этого сечения.



Ответ: \_\_\_\_\_.

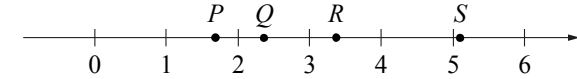
**ИЛИ**

Найдите объём правильной четырёхугольной пирамиды, сторона основания которой равна 4, а боковое ребро равно  $\sqrt{17}$ .



Ответ: \_\_\_\_\_.

- 17** На прямой отмечены точки  $P, Q, R$  и  $S$ .



Установите соответствие между указанными точками и числами из правого столбца, которые им соответствуют.

ТОЧКИ

$P$

$Q$

$R$

$S$

ЧИСЛА

1)  $\log_2 10$

2)  $\frac{7}{3}$

3)  $\sqrt{26}$

4)  $0,6^{-1}$

Ответ:

$P$	$Q$	$R$	$S$

**ИЛИ**

Каждому из четырёх неравенств слева соответствует одно из решений, изображённых на координатной прямой справа.

Установите соответствие между неравенствами и их решениями.

НЕРАВЕНСТВА

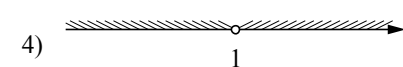
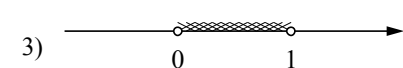
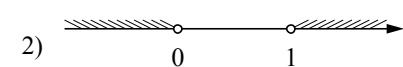
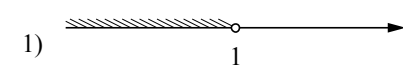
А)  $x(1-x) > 0$

Б)  $1-x > 0$

В)  $(1-x)^2 > 0$

Г)  $x(1-x) < 0$

РЕШЕНИЯ



В таблице под каждой буквой укажите соответствующий номер.

Ответ:

А	Б	В	Г

- 18** В городе  $Z$  в 2013 г. мальчиков родилось больше, чем девочек. Мальчиков чаще всего называли Андрей, а девочек — Мария. Выберите утверждения, которые следуют из приведённых данных.

Среди рождённых в 2013 г. в городе  $Z$ :

- 1) девочек с именем Мария больше, чем с именем Светлана.
- 2) мальчиков с именем Николай больше, чем с именем Аристарх.
- 3) хотя бы одного из родившихся мальчиков назвали Андреем.
- 4) мальчиков с именем Андрей больше, чем девочек с именем Мария.

В ответе укажите номера выбранных утверждений без пробелов, запятых и других дополнительных символов.

Ответ: \_\_\_\_\_.

**ИЛИ**

Известно, что Витя выше Коли, Маша выше Ани, а Саша ниже и Коли, и Маши. Выберите утверждения, которые следуют из приведённых данных.

- 1) Витя выше Саши.
- 2) Саша ниже Ани.
- 3) Коля и Маша одного роста.
- 4) Витя самый высокий из всех.

В ответе укажите номера выбранных утверждений без пробелов, запятых и других дополнительных символов.

Ответ: \_\_\_\_\_.

- 19** Приведите пример трёхзначного числа, сумма цифр которого равна 20, а сумма квадратов цифр делится на 3, но не делится на 9.

Ответ: \_\_\_\_\_.

- 20** Улитка за день заползает вверх по дереву на 3 м, а за ночь спускается на 2 м. Высота дерева 10 м. Через сколько дней улитка впервые окажется на вершине дерева?

Ответ: \_\_\_\_\_.

**ИЛИ**

На кольцевой дороге расположены четыре бензоколонки: А, В, С и Д. Расстояние между А и В — 35 км, между А и С — 20 км, между С и Д — 20 км, между Д и А — 30 км (все расстояния измеряются вдоль кольцевой дороги в кратчайшую сторону). Найдите расстояние между В и С. Ответ дайте в километрах.

Ответ: \_\_\_\_\_.

### Система оценивания

#### Ответы к заданиям 1–20

Правильное решение каждого из заданий 1–20 оценивается 1 баллом. Задание считается выполненным верно, если экзаменуемый дал правильный ответ в виде целого числа или конечной десятичной дроби, или последовательности цифр.

№ задания	Пример 1	Пример 2	Пример 3
1	2,65	3,2	
2	40	54	
3	17 400	50	
4	7	6	8
5	–0,6	51	30
6	6	20	11
7	7	67	–2
8	1700	120	8
9	4312	3142	
10	0,2	0,97	
11	7	5	–3
12	135; 153; 315; 351; 513; 531; 256; 265; 526; 562; 625; 652	123; 132; 213; 231; 312; 321; 256; 265; 526; 562; 625; 652	192 000
13	5		
14	4132	2413	
15	3,2		
16	180	16	
17	4213	3142	
18	13; 31	1	
19	578; 587; 758; 785; 857; 875		
20	8	15	

Единый государственный экзамен по МАТЕМАТИКЕ

**Кодификатор**  
 требований к уровню подготовки выпускников  
 образовательных организаций для проведения  
 единого государственного экзамена  
 по математике

подготовлен Федеральным государственным бюджетным  
 научным учреждением

«ФЕДЕРАЛЬНЫЙ ИНСТИТУТ ПЕДАГОГИЧЕСКИХ ИЗМЕРЕНИЙ»

**Кодификатор**  
**требований к уровню подготовки выпускников образовательных**  
**организаций для проведения**  
**единого государственного экзамена**  
**по МАТЕМАТИКЕ**

Кодификатор требований к уровню подготовки выпускников образовательных организаций для проведения единого государственного экзамена по математике составлен на основе Обязательного минимума содержания основных образовательных программ и Требований к уровню подготовки выпускников средней школы (приказ Минобразования России от 05.03.2004 № 1089 «Об утверждении федерального компонента Государственных стандартов начального общего, основного общего и среднего (полного) общего образования»).

Кодификатор требований по всем разделам включает в себя требования к уровню подготовки выпускников образовательных организаций (базовый уровень).

В первом столбце таблицы указаны коды разделов, на которые разбиты требования к уровню подготовки по математике. Во втором столбце указан код требования, для которого создаются экзаменационные задания. В третьем столбце указаны требования (умения), проверяемые заданиями экзаменационной работы.

Код раздела	Код контролируемого требования (умения)	Требования (умения), проверяемые заданиями экзаменационной работы
1		<b>Уметь выполнять вычисления и преобразования</b>
	1.1	Выполнять арифметические действия, сочетая устные и письменные приемы; находить значения корня натуральной степени, степени с рациональным показателем, логарифма
	1.2	Вычислять значения числовых и буквенных выражений, осуществляя необходимые подстановки и преобразования
	1.3	Проводить по известным формулам и правилам преобразования буквенных выражений, включающих степени, радикалы, логарифмы и тригонометрические функции
2		<b>Уметь решать уравнения и неравенства</b>
	2.1	Решать рациональные, иррациональные, показательные, тригонометрические и логарифмические уравнения, их системы
	2.2	Решать уравнения, простейшие системы уравнений, используя свойства функций и их графиков; использовать для приближенного решения уравнений и неравенств графический метод
	2.3	Решать рациональные, показательные и логарифмические неравенства, их системы
3		<b>Уметь выполнять действия с функциями</b>
	3.1	Определять значение функции по значению аргумента при

		различных способах задания функции; описывать по графику поведение и свойства функции, находить по графику функции наибольшее и наименьшее значения; строить графики изученных функций
	3.2	Вычислять производные и первообразные элементарных функций
	3.3	Исследовать в простейших случаях функции на монотонность, находить наибольшее и наименьшее значения функции
<b>4</b>		<b>Уметь выполнять действия с геометрическими фигурами, координатами и векторами</b>
	4.1	Решать планиметрические задачи на нахождение геометрических величин (длин, углов, площадей)
	4.2	Решать простейшие стереометрические задачи на нахождение геометрических величин (длин, углов, площадей, объёмов); использовать при решении стереометрических задач планиметрические факты и методы
	4.3	Определять координаты точки; проводить операции над векторами, вычислять длину и координаты вектора, угол между векторами
<b>5</b>		<b>Уметь строить и исследовать простейшие математические модели</b>
	5.1	Моделировать реальные ситуации на языке алгебры, составлять уравнения и неравенства по условию задачи; исследовать построенные модели с использованием аппарата алгебры
	5.2	Моделировать реальные ситуации на языке геометрии, исследовать построенные модели с использованием геометрических понятий и теорем, аппарата алгебры; решать практические задачи, связанные с нахождением геометрических величин
	5.3	Проводить доказательные рассуждения при решении задач, оценивать логическую правильность рассуждений, распознавать логически некорректные рассуждения
	5.4	Моделировать реальные ситуации на языке теории вероятностей и статистики, вычислять в простейших случаях вероятности событий
<b>6</b>		<b>Уметь использовать приобретенные знания и умения в практической деятельности и повседневной жизни</b>
	6.1	Анализировать реальные числовые данные, информацию статистического характера; осуществлять практические расчеты по формулам; пользоваться оценкой и прикидкой при практических расчетах
	6.2	Описывать с помощью функций различные реальные зависимости между величинами и интерпретировать их графики; извлекать информацию, представленную в таблицах, на диаграммах, графиках
	6.3	Решать прикладные задачи, в том числе социально-экономического и физического характера, на наибольшие и наименьшие значения, на нахождение скорости и ускорения

Единый государственный экзамен по МАТЕМАТИКЕ

**Кодификатор**  
элементов содержания по МАТЕМАТИКЕ  
для составления контрольных измерительных материалов для  
проведения единого государственного экзамена

подготовлен Федеральным государственным бюджетным  
научным учреждением

«ФЕДЕРАЛЬНЫЙ ИНСТИТУТ ПЕДАГОГИЧЕСКИХ ИЗМЕРЕНИЙ»

**Кодификатор**  
**элементов содержания по МАТЕМАТИКЕ**  
**для составления контрольных измерительных материалов**  
**для проведения единого государственного экзамена**

Кодификатор элементов содержания для составления контрольных измерительных материалов ЕГЭ по математике составлен на основе Обязательного минимума содержания основных образовательных программ и Требований к уровню подготовки выпускников средней школы (приказ Минобрнауки России от 05.03.2004 № 1089 «Об утверждении федерального компонента Государственных стандартов начального общего, основного общего и среднего (полного) общего образования»).

Кодификатор элементов содержания по всем разделам включает в себя элементы содержания за курс средней школы (базовый уровень) и необходимые элементы содержания за курс основной школы.

В первом столбце таблицы указаны коды разделов и тем. Во втором столбце указан код содержания раздела (темы), для которого создаются проверочные задания.

Код раздела	Код контролируемого элемента	Элементы содержания, проверяемые заданиями экзаменационной работы
<b>1</b>		<b>Алгебра</b>
<i>1.1</i>		<i>Числа, корни и степени</i>
	1.1.1	Целые числа
	1.1.2	Степень с натуральным показателем
	1.1.3	Дроби, проценты, рациональные числа
	1.1.4	Степень с целым показателем
	1.1.5	Корень степени $n > 1$ и его свойства
	1.1.6	Степень с рациональным показателем и её свойства
	1.1.7	Свойства степени с действительным показателем
<i>1.2</i>		<i>Основы тригонометрии</i>
	1.2.1	Синус, косинус, тангенс, котангенс произвольного угла
	1.2.2	Радианная мера угла
	1.2.3	Синус, косинус, тангенс и котангенс числа
	1.2.4	Основные тригонометрические тождества
	1.2.5	Формулы приведения
	1.2.6	Синус, косинус и тангенс суммы и разности двух углов
	1.2.7	Синус и косинус двойного угла
<i>1.3</i>		<i>Логарифмы</i>
	1.3.1	Логарифм числа
	1.3.2	Логарифм произведения, частного, степени
	1.3.3	Десятичный и натуральный логарифмы, число $e$
<i>1.4</i>		<i>Преобразования выражений</i>
	1.4.1	Преобразования выражений, включающих арифметические операции

	1.4.2	Преобразования выражений, включающих операцию возведения в степень
	1.4.3	Преобразования выражений, включающих корни натуральной степени
	1.4.4	Преобразования тригонометрических выражений
	1.4.5	Преобразование выражений, включающих операцию логарифмирования
	1.4.6	Модуль (абсолютная величина) числа
<b>2</b>		<b>Уравнения и неравенства</b>
2.1		<i>Уравнения</i>
	2.1.1	Квадратные уравнения
	2.1.2	Рациональные уравнения
	2.1.3	Иррациональные уравнения
	2.1.4	Тригонометрические уравнения
	2.1.5	Показательные уравнения
	2.1.6	Логарифмические уравнения
	2.1.7	Равносильность уравнений, систем уравнений
	2.1.8	Простейшие системы уравнений с двумя неизвестными
	2.1.9	Основные приёмы решения систем уравнений: подстановка, алгебраическое сложение, введение новых переменных
	2.1.10	Использование свойств и графиков функций при решении уравнений
	2.1.11	Изображение на координатной плоскости множества решений уравнений с двумя переменными и их систем
	2.1.12	Применение математических методов для решения содержательных задач из различных областей науки и практики. Интерпретация результата, учёт реальных ограничений
2.2		<i>Неравенства</i>
	2.2.1	Квадратные неравенства
	2.2.2	Рациональные неравенства
	2.2.3	Показательные неравенства
	2.2.4	Логарифмические неравенства
	2.2.5	Системы линейных неравенств
	2.2.6	Системы неравенств с одной переменной
	2.2.7	Равносильность неравенств, систем неравенств
	2.2.8	Использование свойств и графиков функций при решении неравенств
	2.2.9	Метод интервалов
	2.2.10	Изображение на координатной плоскости множества решений неравенств с двумя переменными и их систем
<b>3</b>		<b>Функции</b>
3.1		<i>Определение и график функции</i>
	3.1.1	Функция, область определения функции
	3.1.2	Множество значений функции
	3.1.3	График функции. Примеры функциональных зависимостей в реальных процессах и явлениях
	3.1.4	Обратная функция. График обратной функции

	3.1.5	Преобразования графиков: параллельный перенос, симметрия относительно осей координат
3.2		<i>Элементарное исследование функций</i>
	3.2.1	Монотонность функции. Промежутки возрастания и убывания
	3.2.2	Чётность и нечётность функции
	3.2.3	Периодичность функции
	3.2.4	Ограниченность функции
	3.2.5	Точки экстремума (локального максимума и минимума) функции
	3.2.6	Наибольшее и наименьшее значения функции
3.3		<i>Основные элементарные функции</i>
	3.3.1	Линейная функция, её график
	3.3.2	Функция, описывающая обратную пропорциональную зависимость, её график
	3.3.3	Квадратичная функция, её график
	3.3.4	Степенная функция с натуральным показателем, её график
	3.3.5	Тригонометрические функции, их графики
	3.3.6	Показательная функция, её график
	3.3.7	Логарифмическая функция, её график
<b>4</b>		<b>Начала математического анализа</b>
4.1		<i>Производная</i>
	4.1.1	Понятие о производной функции, геометрический смысл производной
	4.1.2	Физический смысл производной, нахождение скорости для процесса, заданного формулой или графиком
	4.1.3	Уравнение касательной к графику функции
	4.1.4	Производные суммы, разности, произведения, частного
	4.1.5	Производные основных элементарных функций
	4.1.6	Вторая производная и её физический смысл
4.2		<i>Исследование функций</i>
	4.2.1	Применение производной к исследованию функций и построению графиков
	4.2.2	Примеры использования производной для нахождения наилучшего решения в прикладных, в том числе социально-экономических, задачах
4.3		<i>Первообразная и интеграл</i>
	4.3.1	Первообразные элементарных функций
	4.3.2	Примеры применения интеграла в физике и геометрии
<b>5</b>		<b>Геометрия</b>
5.1		<i>Планиметрия</i>
	5.1.1	Треугольник
	5.1.2	Параллелограмм, прямоугольник, ромб, квадрат
	5.1.3	Трапеция
	5.1.4	Окружность и круг
	5.1.5	Окружность, вписанная в треугольник, и окружность, описанная около треугольника
	5.1.6	Многоугольник. Сумма углов выпуклого многоугольника

	5.1.7	Правильные многоугольники. Вписанная окружность и описанная окружность правильного многоугольника
5.2		<i>Прямые и плоскости в пространстве</i>
	5.2.1	Пересекающиеся, параллельные и скрещивающиеся прямые; перпендикулярность прямых
	5.2.2	Параллельность прямой и плоскости, признаки и свойства
	5.2.3	Параллельность плоскостей, признаки и свойства
	5.2.4	Перпендикулярность прямой и плоскости, признаки и свойства; перпендикуляр и наклонная; теорема о трёх перпендикулярах
	5.2.5	Перпендикулярность плоскостей, признаки и свойства
	5.2.6	Параллельное проектирование. Изображение пространственных фигур
5.3		<i>Многогранники</i>
	5.3.1	Призма, её основания, боковые рёбра, высота, боковая поверхность; прямая призма; правильная призма
	5.3.2	Параллелепипед; куб; симметрии в кубе, в параллелепипеде
	5.3.3	Пирамида, её основание, боковые рёбра, высота, боковая поверхность; треугольная пирамида; правильная пирамида
	5.3.4	Сечения куба, призмы, пирамиды
	5.3.5	Представление о правильных многогранниках (тетраэдр, куб, октаэдр, додекаэдр и икосаэдр)
5.4		<i>Тела и поверхности вращения</i>
	5.4.1	Цилиндр. Основание, высота, боковая поверхность, образующая, развертка
	5.4.2	Конус. Основание, высота, боковая поверхность, образующая, развертка
	5.4.3	Шар и сфера, их сечения
5.5		<i>Измерение геометрических величин</i>
	5.5.1	Величина угла, градусная мера угла, соответствие между величиной угла и длиной дуги окружности
	5.5.2	Угол между прямыми в пространстве; угол между прямой и плоскостью; угол между плоскостями
	5.5.3	Длина отрезка, ломаной, окружности, периметр многоугольника
	5.5.4	Расстояние от точки до прямой, от точки до плоскости; расстояние между параллельными и скрещивающимися прямыми, расстояние между параллельными плоскостями
	5.5.5	Площадь треугольника, параллелограмма, трапеции, круга, сектора
	5.5.6	Площадь поверхности конуса, цилиндра, сферы
	5.5.7	Объём куба, прямоугольного параллелепипеда, пирамиды, призмы, цилиндра, конуса, шара

5.6		<i>Координаты и векторы</i>
	5.6.1	Координаты на прямой, декартовы координаты на плоскости и в пространстве
	5.6.2	Формула расстояния между двумя точками; уравнение сферы
	5.6.3	Вектор, модуль вектора, равенство векторов; сложение векторов и умножение вектора на число
	5.6.4	Коллинеарные векторы. Разложение вектора по двум неколлинеарным векторам
	5.6.5	Компланарные векторы. Разложение по трём некопланарным векторам
	5.6.6	Координаты вектора; скалярное произведение векторов; угол между векторами
<b>6</b>		<b>Элементы комбинаторики, статистики и теории вероятностей</b>
6.1		<i>Элементы комбинаторики</i>
	6.1.1	Поочередный и одновременный выбор
	6.1.2	Формулы числа сочетаний и перестановок. Бином Ньютона
6.2		<i>Элементы статистики</i>
	6.2.1	Табличное и графическое представление данных
	6.2.2	Числовые характеристики рядов данных
6.3		<i>Элементы теории вероятностей</i>
	6.3.1	Вероятности событий
	6.3.2	Примеры использования вероятностей и статистики при решении прикладных задач

Единый государственный экзамен по МАТЕМАТИКЕ

**Спецификация**  
контрольных измерительных материалов  
для проведения в 2016 году  
единого государственного экзамена  
по математике

**Базовый уровень**

подготовлена Федеральным государственным бюджетным научным  
учреждением

«ФЕДЕРАЛЬНЫЙ ИНСТИТУТ ПЕДАГОГИЧЕСКИХ ИЗМЕРЕНИЙ»

**Спецификация**  
**контрольных измерительных материалов**  
**для проведения в 2016 году единого государственного экзамена**  
**по МАТЕМАТИКЕ (базовый уровень)**

**1. Назначение КИМ ЕГЭ**

Единый государственный экзамен (ЕГЭ) представляет собой форму объективной оценки качества подготовки лиц, освоивших образовательные программы среднего общего образования, с использованием заданий стандартизированной формы (контрольных измерительных материалов).

ЕГЭ проводится в соответствии с Федеральным законом от 29.12.2012 № 273-ФЗ «Об образовании в Российской Федерации».

Контрольные измерительные материалы (далее – КИМ) позволяют установить уровень освоения выпускниками Федерального компонента государственного стандарта среднего (полного) общего образования по математике, базовый уровень.

Результаты единого государственного экзамена по математике (базовый уровень) признаются образовательными организациями среднего общего образования и образовательными организациями среднего профессионального образования как результаты государственной итоговой аттестации.

**2. Документы, определяющие содержание КИМ ЕГЭ**

Содержание экзаменационной работы определяется Федеральным компонентом государственных стандартов основного общего и среднего (полного) общего образования, базовый уровень (приказ Минобрразования России от 05.03.2004 № 1089 «Об утверждении Федерального компонента государственных стандартов начального общего, основного общего и среднего (полного) общего образования»).

**3. Подходы к отбору содержания, разработке структуры КИМ ЕГЭ**

Распоряжением Правительства РФ от 24.12.2013 № 2506-р, принятым в соответствии с Указом Президента РФ от 07.05.2012 «О мерах по реализации государственной политики в области образования и науки», утверждена Концепция развития математического образования в Российской Федерации, определяющая базовые принципы, цели, задачи и основные направления. Согласно Концепции математическое образование должно, с одной стороны, «предоставлять каждому обучающемуся возможность достижения уровня математических знаний, необходимого для дальнейшей успешной жизни в обществе», с другой – «обеспечивать необходимое стране число выпускников, математическая подготовка которых достаточна для продолжения образования в различных направлениях и для практической деятельности, включая преподавание математики, математические исследования, работу в сфере информационных технологий и др.». Кроме того, «в основном общем и среднем общем образовании необходимо предусмотреть подготовку обучающихся»



ся в соответствии с их запросами к уровню подготовки в сфере математического образования».

В число мер по реализации Концепции, принятых приказом Минобрнауки России от 03.04.2014 № 265, входит «совершенствование системы государственной итоговой аттестации, завершающей освоение основных образовательных программ основного общего и среднего образования, по математике, разработка соответствующих контрольных измерительных материалов, обеспечивающих введение различных направлений изучения математики», т.е. материалов, предназначенных для различных целевых групп выпускников.

Модель ЕГЭ по математике базового уровня предназначена для государственной итоговой аттестации выпускников, не планирующих продолжения образования в профессиях, предъявляющих специальные требования к уровню математической подготовки. Так как в настоящее время существенно возрастает роль общематематической подготовки в повседневной жизни, в массовых профессиях, в модели ЕГЭ по математике базового уровня усилены акценты на контроль способности применять полученные знания на практике, развитие логического мышления, умение работать с информацией.

Выполнение заданий экзаменационной работы свидетельствует о наличии у участника экзамена общематематических умений, необходимых человеку в современном обществе. Задания проверяют базовые вычислительные и логические умения и навыки, умение анализировать информацию, представленную на графиках и в таблицах, использовать простейшие вероятностные и статистические модели, ориентироваться в простейших геометрических конструкциях. В работу включены задания базового уровня по всем основным предметным разделам: геометрия (планиметрия и стереометрия), алгебра, начала математического анализа, теория вероятностей и статистика.

Тексты заданий предлагаемой модели экзаменационной работы в целом соответствуют формулировкам, принятым в учебниках и учебных пособиях, включенным в Федеральный перечень учебников, рекомендуемых Министерством образования и науки РФ к использованию при реализации имеющих государственную аккредитацию образовательных программ основного общего и среднего общего образования.

#### 4. Структура КИМ ЕГЭ

Экзаменационная работа состоит из одной части, включающей 20 заданий с кратким ответом базового уровня сложности.

Ответом к каждому из заданий 1–20 является целое число или конечная десятичная дробь, или последовательность цифр. Задание с кратким ответом считается выполненным, если верный ответ записан в бланке ответов № 1 в той форме, которая предусмотрена инструкцией по выполнению задания.

В таблице 1 приведена структура экзаменационной работы.

Таблица 1  
Структура варианта КИМ

<b>Задания</b>	1–20
<b>Тип заданий и форма ответа</b>	С кратким ответом в виде целого числа, или конечной десятичной дроби, или последовательности цифр
<b>Назначение</b>	Проверка освоения базовых умений и практических навыков применения математических знаний в повседневных ситуациях
<b>Уровень сложности</b>	Базовый
<b>Проверяемый учебный материал курсов математики</b>	1. Математика 5–6 классов 2. Алгебра 7–9 классов 3. Алгебра и начала анализа 10–11 классов 4. Теория вероятностей и статистика 7–9 классов 5. Геометрия 7–11 классов

#### 5. Распределение заданий варианта КИМ по содержанию, видам умений и способам действий

В таблице 2 показано распределение заданий экзаменационной работы по содержательным блокам курса математики.

Таблица 2  
Распределение заданий КИМ по содержательным блокам курса математики

Содержательные блоки по кодификатору КЭС	Количество заданий	Максимальный первичный балл	Процент максимального первичного балла за задания данного блока содержания от максимального первичного балла за всю работу, равного 20
Алгебра	10	10	50
Уравнения и неравенства	3	3	15
Функции	1	1	5
Начала математического анализа	1	1	5
Геометрия	4	4	20
Элементы комбинаторики, статистики и теории вероятностей	1	1	5
Итого	20	20	100

Содержание и структура экзаменационной работы дают возможность достаточно полно проверить комплекс умений и навыков по предмету:

- уметь использовать приобретенные знания и умения в практической деятельности и повседневной жизни;
- уметь выполнять вычисления и преобразования;
- уметь решать уравнения и неравенства;
- уметь выполнять действия с функциями;
- уметь выполнять действия с геометрическими фигурами;
- уметь строить и исследовать математические модели.

В таблице 3 представлено распределение заданий в варианте контроль-

ных измерительных материалов по проверяемым умениям и видам деятельности.

Таблица 3

Распределение заданий по проверяемым умениям и видам деятельности

Проверяемые умения и виды деятельности (по кодификатору КТ)	Количество заданий	Максимальный первичный балл	Процент максимального первичного балла за задания данного вида учебной деятельности от максимального первичного балла за всю работу, равного 20
Уметь выполнять вычисления и преобразования	5	5	25
Уметь решать уравнения и неравенства	2	2	10
Уметь выполнять действия с функциями	1	1	5
Уметь выполнять действия с геометрическими фигурами	3	3	15
Уметь строить и исследовать математические модели	5	5	25
Уметь использовать приобретенные знания и умения в практической деятельности и повседневной жизни	4	4	20
Итого	20	20	100

### 6. Распределение заданий КИМ по уровню сложности

Экзаменационная работа содержит задания только базового уровня сложности.

### 7. Продолжительность ЕГЭ по математике базового уровня

На выполнение экзаменационной работы отводится 3 часа (180 минут).

### 8. Дополнительные материалы и оборудование

Перечень дополнительных устройств и материалов, пользование которыми разрешено на ЕГЭ, утвержден приказом Минобрнауки России. Необходимые справочные материалы выдаются вместе с текстом экзаменационной работы. При выполнении заданий разрешается пользоваться линейкой.

### 9. Система оценивания выполнения отдельных заданий и экзаменационной работы в целом

Правильное решение каждого из заданий 1–20 оценивается 1 баллом. Задание считается выполненным верно, если экзаменуемый дал правильный ответ в виде целого числа или конечной десятичной дроби, или последовательности цифр.

Максимальный первичный балл за всю работу – 20.

### 10. Изменения в КИМ ЕГЭ 2016 года в сравнении с 2015 годом

Изменений структуры и содержания экзаменационной работы нет.

## Приложение

Обобщенный план варианта КИМ ЕГЭ 2016 года  
по МАТЕМАТИКЕ (базовый уровень)

Уровни сложности заданий: Б – базовый.

№	Проверяемые требования (умения)	Коды проверяемых требований (по КТ)	Коды проверяемых элементов содержания (по КЭС)	Уровень сложности задания	Максимальный балл за выполнение задания	Примерное время выполнения задания обучающимся, изучавшим математику на базовом уровне (в минутах)
1	Уметь выполнять вычисления и преобразования	1.1	1.1.1, 1.1.3, 1.4.1	Б	1	5
2	Уметь выполнять вычисления и преобразования	1.1	1.1.3, 1.1.4, 1.4.2	Б	1	5
3	Уметь использовать приобретенные знания и умения в практической деятельности и повседневной жизни	6.3	1.1.3	Б	1	7
4	Уметь выполнять вычисления и преобразования	1.2	1.4.1–1.4.3	Б	1	7
5	Уметь выполнять вычисления и преобразования	1.1–1.3	1.4.3, 1.4.4, 1.4.5	Б	1	8
6	Уметь использовать приобретенные знания и умения в практической деятельности и повседневной жизни	6.1	1.4.1	Б	1	8
7	Уметь решать уравнения и неравенства	2.1	2.1.1–2.1.6	Б	1	8
8	Уметь строить и исследовать простейшие математические модели	4.1, 5.2	5.1.1, 5.1.2, 5.1.3, 5.5.1, 5.5.3, 5.5.5	Б	1	11
9	Уметь использовать приобретенные знания и умения в практической деятельности и повседневной жизни	6.1	2.1.12, 6.3.1	Б	1	5
10	Уметь строить и исследовать простейшие математические модели	5.4	6.3.1	Б	1	11
11	Уметь использовать приобретенные знания и умения в практической деятельности и повседневной жизни	6.2, 3.1	6.2.1, 3.1.3	Б	1	5
12	Уметь строить и исследовать простейшие математические модели	5.1, 6.1, 6.2	1.4.1	Б	1	12
13	Уметь выполнять действия с геометрическими фигурами	4.2	5.3.1–5.3.5, 5.4.1–5.4.3, 5.5.5–5.5.7	Б	1	12

14	Уметь выполнять действия с функциями	3.3, 6.2, 6.3	3.1.1–3.1.3, 3.2.1, 3.2.5, 3.2.6, 4.1.1, 4.1.2, 6.2.1	Б	1	8
15	Уметь выполнять действия с геометрическими фигурами	4.1	5.1.1–5.1.5, 5.5.1, 5.5.3, 5.5.5	Б	1	9
16	Уметь выполнять действия с геометрическими фигурами	4.2	5.3.1–5.3.3, 5.4.1–5.4.3, 5.5.5–5.5.7	Б	1	9
17	Уметь решать уравнения и неравенства	2.3, 6.1	2.2.1–2.2.5	Б	1	9
18	Уметь строить и исследовать простейшие математические модели	5.3	2.1.12	Б	1	9
19	Уметь выполнять вычисления и преобразования	1.1	1.4.1, 1.4.2	Б	1	16
20	Уметь строить и исследовать простейшие математические модели	5.1	1.4.1, 1.4.2, 2.2.2	Б	1	16
<p>Всего заданий – <b>20</b>; из них по типу заданий: с кратким ответом – <b>20</b>; по уровню сложности: Б – <b>20</b>. Максимальный первичный балл за работу – <b>20</b>. Общее время выполнения работы – <b>180</b> минут.</p>						